



Adı Soyadı :

Numarası :

Konu: Romen Rakamları Etkinliği 3

Aşağıdaki saat üzerinde verilen Romen rakamlarının hangi sayılara karşılık geldiğini noktalı yerlere yazalım.



I :

VII :

II :

VIII :

III :

IX :

IV :

X :

V :

XI :

VI :

XII :



Aşağıda verilen Romen rakamlarını sayılarla yazalım.



Romen rakamı	Sayı
V	
III	
IV	
VI	
I	



Romen rakamı	Sayı
XI	
VII	
XIV	
II	
VI	



Romen rakamı	Sayı
XX	
VIII	
XVII	
XII	
XIX	



Aşağıda sembollerle oluşturulan Romen rakamlarını ve sayı olarak karşılarını örnekteki gibi yazalım.

	→	I		→	V		→	X
---	---	---	---	---	---	---	---	---

  : .. VI .. = .. 6 ..

  : .. VI .. = .. 6 ..

  : .. VI .. = .. 6 ..

  : .. VI .. = .. 6 ..

   : .. VI .. = .. 6 ..

   : .. VI .. = .. 6 ..

1'den 20'ye kadar Romen rakamlarınız alttaki kutulara yazınız.

I									

Aşağıdaki toplama işlemlerini yapıp Romen rakamları ile işlemleri örnekteki gibi tekrar yazalım.

$5 + 2 = 7$ $V + II = VII$	$10 + 1 = \dots\dots$ $\dots\dots + \dots\dots = \dots\dots$	$8 + 7 = \dots\dots$ $\dots\dots + \dots\dots = \dots\dots$
$10 + 6 = \dots\dots$ $\dots\dots + \dots\dots = \dots\dots$	$9 + 4 = \dots\dots$ $\dots\dots + \dots\dots = \dots\dots$	$5 + 3 = \dots\dots$ $\dots\dots + \dots\dots = \dots\dots$
$10 + 9 = \dots\dots$ $\dots\dots + \dots\dots = \dots\dots$	$8 + 8 = \dots\dots$ $\dots\dots + \dots\dots = \dots\dots$	$7 + 2 = \dots\dots$ $\dots\dots + \dots\dots = \dots\dots$
$10 + 4 = \dots\dots$ $\dots\dots + \dots\dots = \dots\dots$	$5 + 4 = \dots\dots$ $\dots\dots + \dots\dots = \dots\dots$	$6 + 5 = \dots\dots$ $\dots\dots + \dots\dots = \dots\dots$

Aşağıdaki çıkarma işlemlerini yapıp Romen rakamları ile işlemleri örnekteki gibi tekrar yazalım.

$5 - 1 = \dots\dots$ $\dots\dots - \dots\dots = \dots\dots$	$10 - 2 = \dots\dots$ $\dots\dots - \dots\dots = \dots\dots$	$11 - 5 = \dots\dots$ $\dots\dots - \dots\dots = \dots\dots$
$16 - 3 = \dots\dots$ $\dots\dots - \dots\dots = \dots\dots$	$9 - 4 = \dots\dots$ $\dots\dots - \dots\dots = \dots\dots$	$20 - 4 = \dots\dots$ $\dots\dots - \dots\dots = \dots\dots$
$15 - 3 = \dots\dots$ $\dots\dots - \dots\dots = \dots\dots$	$19 - 9 = \dots\dots$ $\dots\dots - \dots\dots = \dots\dots$	$12 - 7 = \dots\dots$ $\dots\dots - \dots\dots = \dots\dots$